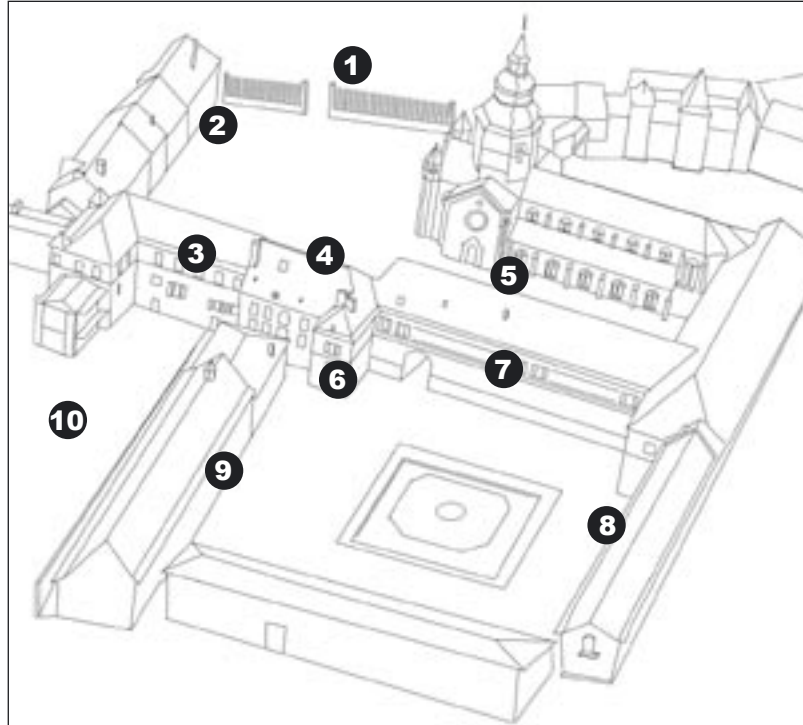




Exercice final

Sauras-tu retrouver sur le plan tous les bâtiments que tu as vus ?

Mets le numéro correspondant devant la liste des bâtiments.
Un numéro peut être utilisé plusieurs fois.



AUTREFOIS

<input type="checkbox"/>	Eglise et cloître	<input type="checkbox"/>	Moulin
<input type="checkbox"/>	Bibliothèque	<input type="checkbox"/>	Bâtiment agricole
<input type="checkbox"/>	Jardin de l'abbé	<input type="checkbox"/>	Maison des filles
<input type="checkbox"/>	Mur d'entrée	<input type="checkbox"/>	Palais abbatial
<input type="checkbox"/>	Chambres d'hôtes et cellules des moines	<input type="checkbox"/>	Pavillon Dom Calmet

AUJOURD'HUI

<input type="checkbox"/>	Communautés de communes
<input type="checkbox"/>	Office de Tourisme
<input type="checkbox"/>	Eglise
<input type="checkbox"/>	Salle de sport
<input type="checkbox"/>	Coiffeur
<input type="checkbox"/>	Jardin public



L'ABBAYE DE SENONES

pour le jeune public



Le passé de **Senones** est très riche. Dans cette petite ville se sont succédés : des moines, des princes, des industriels, des soldats...

Les premiers évènements de Senones sont liés à son **abbaye**.

Pendant 11 siècles, des moines ont vécu dans cette abbaye.

A la Révolution Française, ils quittent le monastère et les bâtiments sont vendus à des industriels et transformés en usines. En 1993, la dernière usine ferme et la ville de Senones rachète la plupart des bâtiments. Certains sont réoccupés, d'autres sont encore vides aujourd'hui.

Ce guide t'aidera à visiter l'abbaye et à comprendre son histoire.

carnet de jeux réalisé et édité par
l'Office de Tourisme du Pays des Abbayes

18. place Dom Calmet 88210 SENONES

tél. 03 29 57 91 03 • fax. 03 29 57 83 95

e-mail / ot.senones@wanadoo.fr

www.paysdesabbayes.com

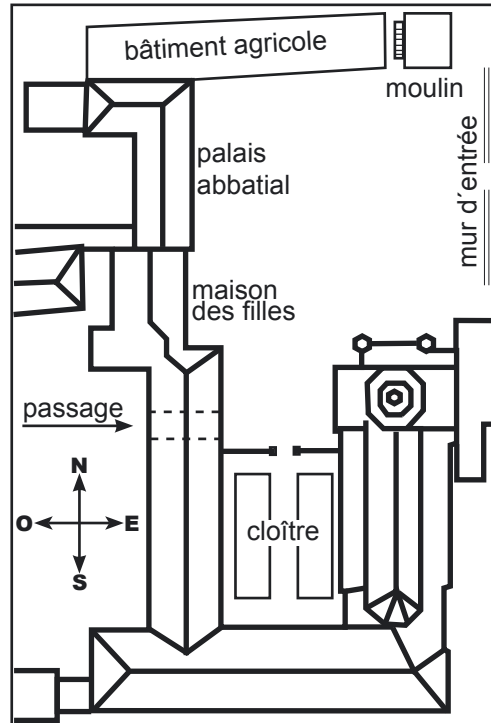
B suite

□ Au 18ème siècle, la cour était fermée par l'église, qui s'étendait d'Ouest en Est (c'est la direction normale d'une église).

Elle n'existe plus aujourd'hui. Une nouvelle église a été reconstruite mais elle a fait un quart de tour (elle est aujourd'hui dans le sens Nord-Sud, comme tu peux le voir sur le plan).



4 - Avec ces informations, dessine sur le plan l'emplacement de l'église au 18ème siècle.



Cherche ce lieu.

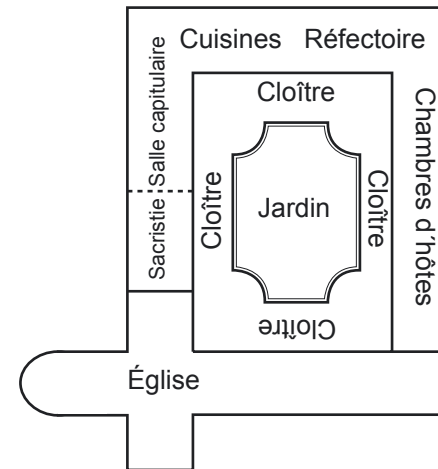


C

1 - Comment s'appelle cet ensemble d'arcades entourant un petit jardin ?

C'était le lieu de promenade des moines, et l'un des seuls lieux où ils avaient le droit de discuter.

□ Voici un plan d'un cloître « normal ».



2 - Compare le avec celui de Senones : combien reste-t-il de côtés au cloître de Senones ?

Tourne le dos à l'église et regarde les arcades en face de toi. Ces bâtiments abritaient, au premier étage, les cellules des moines.

La cellule est :

- a) la salle dans laquelle les moines prenaient leurs repas
- b) la chambre des moines
- c) la pièce dans laquelle les moines étaient emprisonnés



Trouve le lieu d'où a été prise la photo.
5- Qu'est ce que cette photo représente ?

B3

La porte est aujourd'hui condamnée, mais tu peux entrer dans la salle de l'autre côté. Trouve l'autre porte.

□ Cette salle s'appelle la salle de l'escalier d'honneur, c'est le hall d'entrée de l'abbaye. De cette pièce, les moines pouvaient se rendre dans toutes les parties du monastère.

6 - La rampe de cet escalier est célèbre. Sais-tu pourquoi ? (cherche qui l'a construite)

B4





Rends-toi dans la Grande cour de l'abbaye

D

□ Elle est appelée ainsi parce qu'au 18^{ème} siècle le bâtiment au fond de la cour n'existait pas, et il y avait à la place les vergers, les jardins de l'abbaye. Il a été construit pendant la période industrielle et servait de **tissage**.

1 - A quoi sert ce bâtiment aujourd'hui ?

Le grand bâtiment sur ta droite (avec une girouette sur son toit) était un autre bâtiment agricole.

2 - En 1805 on y a installé quelque chose. Quoi ?

En effet, tous les bâtiments de l'abbaye ont été transformés en usines textiles jusque 1993.

3 - Aujourd'hui, à quoi sert ce bâtiment ?



D1



4 - Quel est le bâtiment représenté sur la photo ?

D2

□ **Dom Calmet** est l'avant dernier abbé de l'abbaye de Senones. Il est très célèbre pour plusieurs raisons. Tout d'abord, il a fait reconstruire en grande partie l'abbaye. Il a surtout écrit de nombreux livres et il a rassemblé **15 000 livres** dans la bibliothèque de l'abbaye. Enfin, il a fait venir un **écrivain très célèbre**.

5 - Qui est venu ?

6 - En quelle année ?

D3



Rends-toi sur la place Dom Calmet

B

dans l'ancienne cour d'honneur de l'abbaye.

Au 18^{ème} siècle la grille bleue n'existait pas. A la place, se dressait un grand mur avec une porte.



Mets-toi dos à la grille en regardant la place.

Sur ta droite, à la place des maisons se dressait un bâtiment agricole et le moulin.

1 - A quoi servait le moulin ?

B1

En face de la grille bleue, à droite du porche central, le bâtiment que tu vois était la résidence de l'abbé.

2 - Va voir quel était le nom exact du bâtiment

A gauche du palais abbatial se trouvait la « maison des filles ».

3 - Aujourd'hui, à quoi sert ce bâtiment ?

B2

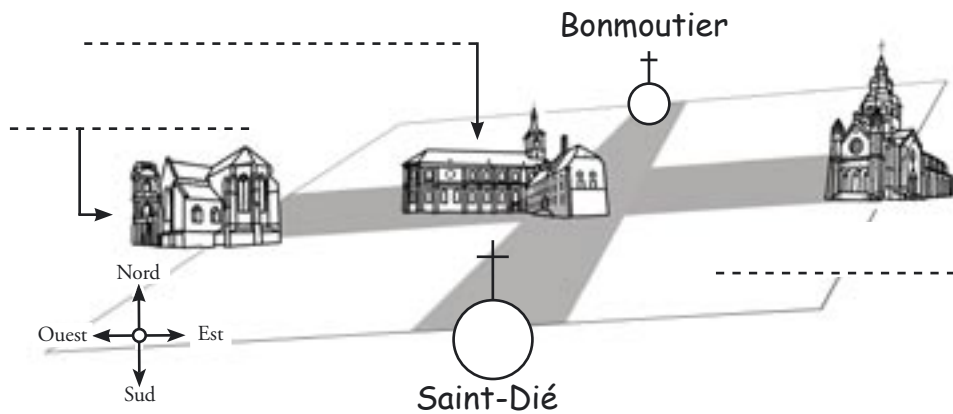
Rends-toi sur les marches de l'église



L'abbaye de Senones est fondée au **7ème siècle** par Gondelbert, en même temps que 4 autres abbayes.

□ Les abbayes d'**Etival** (à l'Ouest), **Moyenmoutier** (au centre) et **Senones** (à l'Est) formaient avec **Bonmoutier** (au Nord) et Saint-Dié (au Sud), ce que les historiens appellent la Croix Monastique de Lorraine.

1 - Ecris le nom des 3 villes qui manquent sur le dessin.



□ La première abbaye de Senones a été fondée en **640** par **Gondelbert**. Un nouveau monastère est construit au **12ème siècle** par **Antoine de Pavie**. Enfin, l'abbaye est entièrement reconstruite au **18ème siècle** par **Dom Calmet**.

La majorité des bâtiments que tu vas voir aujourd'hui datent de cette période.

2 - Replace sur la frise les périodes de construction de l'abbaye, ainsi que le nom des abbés (les chefs du monastère) qui ont dirigé les travaux.

Dates : -----

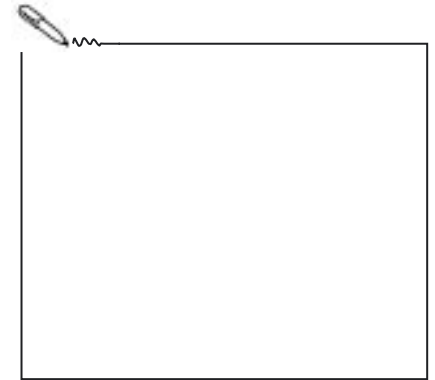
Abbés : -----

Entre calmement dans l'église et respecte ce lieu



□ Même si elle a été construite au 19ème siècle, on dit que son architecture à l'intérieur est de **style roman** parce que les voûtes sont arrondies.

1 - Dessine la forme d'une voûte.




Cette photo représente la tombe d'un personnage célèbre.

2 - Retrouve-la et indique le nom de cette personne

----- **E1**

Sors de l'église et traverse le palais abbatial.



Ce kiosque à musique a été construit à l'emplacement d'un ancien colombier.

3 - Dans quelle partie de l'abbaye le trouve-t-on ?

----- **E2**

□ Ce jardin était le jardin privé de l'abbé. Pendant la période industrielle, il était réservé à la famille des directeurs. Il est aujourd'hui un **jardin public**.